



T.C.
MİLLÎ EĞİTİM BAKANLIĞI
ÖLÇME, DEĞERLENDİRME VE SINAV HİZMETLERİ GENEL MÜDÜRLÜĞÜ

2021-2022 EĞİTİM VE ÖĞRETİM YILI
Sınavla Öğrenci Alacak Ortaöğretim Kurumlarına
İlişkin Merkezî Sınava Yönelik
Ocak Ayı Örnek Soruları
(SÖZEL BÖLÜM)

Bu kitapçıkta toplam 25 soru bulunmaktadır.

- Türkçe : 10 soru
- T. C. İnkılap Tarihi ve Atatürkçülük : 5 soru
- Din Kültürü ve Ahlak Bilgisi : 5 soru
- İngilizce : 5 soru

Türkçe Örnek Soruları

1. Bu sabah erkenden kalktı. Her zamanki gibi elini yüzünü yıkayıp saçlarını taradı. Güneş, yeni yeni gösteriyordu yüzünü. Pencereyi açıp derin bir nefes aldı. Güneşin doğuşuyla aydınlanan gökyüzünü ve ufku taradı uzun bir süre. Sonra bahçenin ayırık otları ve taşlarla dolu toprağına takıldı gözleri. Dışarı çıkarak kullanacağı malzemeleri hazırladı özenle. Bahçenin bir bölümünü dikkatlice belledi. Toprağı tırmıkla tarayıp taşları ve otları ayırdı.

Bu parçada "taramak" sözcüğü aşağıdaki anlamlarından hangisini karşılayacak şekilde kullanılmamıştır?

- A) Bir şeyin tellerini birbirinden ayırıp karışıklığını gidermek
- B) Kafasından geçirmek, belli belirsiz düşünmek
- C) Bir şeyin içindeki gereksiz maddeleri ayıklamak
- D) Dikkatle bakmak, süzmek








2. I. Amazon Ormanları; sera etkisi oluşturup, Dünya'yı ısıtan karbondioksidi atmosferden emerek havaya oksijen salması ve gezegenimizin soğumasına yardımcı olmasıyla bilinmektedir.
- II. Önemli bilimsel dergilerin birinde yayımlanan yeni bir araştırma Amazon Ormanları'nın bir bölümünün, emdiği karbondioksitten fazlasını atmosfere yaydığını gösteriyor.

II numaralı cümleyle ilgili aşağıdakilerden hangisi söylenebilir?

- A) I. cümlede ifade edilenlerle çelişen bir durumdan söz edilmektedir.
- B) I. cümlede değinilen düşüncenin bilimsel olarak kanıtlandığı belirtilmektedir.
- C) I. cümlede anlatılan durumun sebep olduğu bir olumsuzluktan bahsedilmektedir.
- D) I. cümlede vurgulanan durumu örneklendiren bir araştırmanın sonucu verilmektedir.

3. Aşağıdaki tabloda bazı bitkilerden en yüksek verimin alınabilmesi için onların hangi bitkilerden önce veya sonra ekilmesi gerektiğiyle ilgili bilgi verilmiştir.

ÖN BİTKİ	EKİMİ YAPILACAK BİTKİ	ART BİTKİ
Patates, havuç, karnabahar, lahana	Ispanak 	Domates, patates, soğan, bamyası
Soğan, patates, bezelye, salatalık	Lahana 	Domates, fasulye, turp, pırasa
Maydanoz, ıspanak, soğan, patates	Fasulye 	Lahana, biber, patlıcan, soğan
Domates, patates, soğan, ıspanak	Kavun 	Salatalık, lahana, soğan, dereotu
Lahana, kereviz, bezelye, nohut	Domates 	Ispanak, havuç, fasulye, bakla
Kabak, nohut, fasulye, salatalık	Biber 	Pırasa, turp, sarımsak, bakla

Not: Ekimi yapılacak bitkiden önce ve sonra aynı toprağa ekilecek bitkiler, ön ve art bitki olarak isimlendirilmiştir.

Bu bilgilere göre aşağıdakilerden hangisi yanlıştır?

- A) Ürünlerinden yüksek verim elde etmek isteyen biri, lahanadan önce salatalık, lahanayı topladıktan sonra ise pırasa ekimi yapabilir.
- B) Ispanak, kavun, fasulye ekiminden önce patates; bunlar toplandıktan sonra ise soğan ekilmesi verimi yükseltecektir.
- C) Domates ekimi yapacak birinin art bitki olarak ıspanağı, ön bitki olarak ise bezelyeyi tercih etmesi verimi artıracaktır.
- D) Biber ekecek biri; yüksek verim almak için ön bitki olarak kereviz, art bitki olarak bamyası ve havuç tercih etmelidir.

























4. 1970'li yıllarda bir deterjan markasının ürün müdürü, satışları artırmak için yeni bir pazarlama yöntemi geliştirdi. O yıllara kadar uygulanan yöntem, bütün deterjan paketlerinin içine hediye olarak bir çay kaşığının konulmasıydı. Ürün müdürünün geliştirdiği yeni yöntemde ise her pakete basit, ucuz ama ihtiyacı karşılayan bir hediye konulacak ve bu hediyeler birbirinden farklı olacaktı. Çamaşır mandalı, saç tokası, anahtarlık gibi hediyeler hazırlandı ve kapalı paketlere birer tane konuldu. Paketlerin üzerine "Her pakette bir hediye, bizde boş yok!" yazıldı. Bunun üzerine müşteriler paketlerin içinden çıkacak ürünü öğrenmek istedikleri için deterjana büyük ilgi gösterdi ve satışlar kısa sürede on kat arttı.

Bu metne göre söz konusu kampanyanın başarılı olmasının asıl nedeni aşağıdakilerden hangisidir?

- A) Kampanyanın kısa ve öz bir cümleyle duyurulması
- B) Hediyelerin toplumun her kesimine hitap etmesi
- C) Üründen çıkacak hediye merak edilmesi
- D) Tüm paketlere hediye konulması




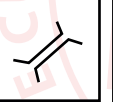
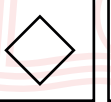
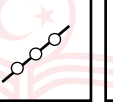


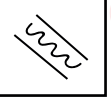


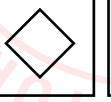
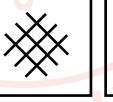

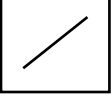
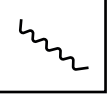


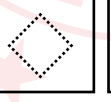
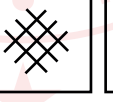




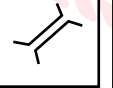
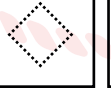
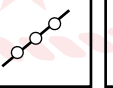

5. Oryantiring, harita yardımı ile yön bulmayı içeren bir spordur. Sporcular yarışma bölgesinin haritasında sembollerle belirtilmiş hedeflere sırasıyla ve en kısa sürede ulaşmaya çalışır.

Aşağıda oryantiring haritasında bulunan bazı semboller verilmiştir.

	Yağmur Suyu Yarığı		Nehir		Yol
	Boyun		Hendek		Orman Yolu
	Karınca Yuvası		Dar Bataklık		Köprü
	Kaya		Su Tankı		Beton Duvar
	Geçit		Açık Alan		Çit
	Küçük Çukur		Yarı Açık Alan		Geçiş Noktası
	Anıt		Sık Çalılık		Boru Hattı
	Ağaçlık		Çit Çalılık		Bina Geçişi

Bir oryantiring yarışmasının talimatlarına göre yarışmacı, orman yolunu takip ederek hendeği geçecek ve karşılaştığı küçük çukurlara dikkat ederek geçide ulaşacaktır. Geçidin sonunda karşılarına çıkacak açık alanda sık çalılıkların bulunduğu yöne doğru ilerleyip anıta giderek yarışmayı tamamlayacaktır.

Buna göre talimatları doğru şekilde yerine getiren yarışmacı, haritasında sırasıyla aşağıdaki sembollerin hangilerini takip etmiştir?

- A)       
- B)       
- C)       
- D)       

- 6.
- Karasal tuzlu sulardan lityum elde edilirken önce, havuzlarda biriktirilen tuzlu suyun açık havada güneş enerjisi ile kendi kendine buharlaşması beklenir. Daha sonra çökteldaki lityum karbonat ayrılır. Ancak tuzlu suyun içinde yüksek oranda magnezyum bulunması ayırıştırma sürecinin verimini düşürür ve maliyeti artırır. Bu nedenle karasal tuzlu sulardan lityum çıkarılması için magnezyum/lityum oranının en çok 6/1 olması gerekir.
 - Türkiye'nin farklı bölgelerinde lityum kaynakları bulunuyor. Ancak bunlar ekonomik değeri olan kaynaklar değil. Örneğin Tuz Gölü'nde bir litre tuzlu suda 325 miligram lityum bulunuyor fakat yüksek oranda magnezyum içermesi nedeniyle Tuz Gölü'nden lityum elde edilmesi hayli güç.
 - Eti Maden İşletmeleri Genel Müdürlüğü (Eti Maden) bor madeninin işlendiği fabrikalarda ortaya çıkan sıvı atıklardan geri dönüşüm yöntemiyle lityum elde edilmesi için bir teknik geliştirdi. Eti Maden tarafından geliştirilen lityum karbonat üretim tekniğiyle sıvı atığın yaklaşık %90'ı geri dönüştürülüyor. Bu sayede atık miktarında ciddi bir azalma da sağlanıyor.

Aşağıdaki sorulardan hangisi bu parçalardan herhangi biriyle ilişkilendirilemez?

- A) Lityum hangi alanlarda kullanılır?
B) Lityum nasıl elde edilir?
C) Hangi sıvı atıklardan lityum üretilebilir?
D) Türkiye'de lityum var mıdır?



7. Stres, vücudun her türlü uyarana yanıt verme yoludur. Beyin, tehlike altında olduğunu hissettiğinde vücudu harekete geçiren stres hormonu salgılar. Bu hormonun etkisiyle kalp atışları hızlanır, kan basıncı yükselir ve duyarlar keskinleşir. Böylece odaklanma hızı ve dayanıklılık artar. "Savaş ya da kaç" tepkisi olarak bilinen bu durum, vücudu korumanın yoludur. Ancak stres hormonunun salgılanması olumlu bir durum gibi görünse de bunun süreklilik arz etmesi vücuda zarar verir. Gözümüze güneş geldiği için kaşlarımızı çattığımızda bile beynimizin üzgün olduğumuzu sanarak stres hormonu salgıladığını düşünürsek stresi kontrol etmenin ruh ve beden sağlığımız için ne kadar önemli olduğunu anlayabiliriz.

Bu metinden "stres hormonu" ile ilgili aşağıdakilerden hangisi çıkarılamaz?

- A) Stres dışındaki durumlarda da salgılanabilmektedir.
B) Vücuda faydası ve zararı, salgılanma sıklığına göre değişmektedir.
C) Vücudun, tehlikelere karşı kendisini savunması için salgılanır.
D) Stres gerektirmeyen durumlarda salgılanması vücut için faydalıdır.

8. Aşağıda aralık ayının takvimi ve bir tiyatrodaki bu ayın bazı günlerinde sahnelenecek oyunlar verilmiştir.

Pt	Sa	Ça	Pe	Cu	Ct	Pa
		1	2	3	4	5
6	7	8	9	10	11	12
13	14	15	16	17	18	19
20	21	22	23	24	25	26
27	28	29	30	31		

- 8 Aralık – Cimri
- 11 Aralık – Ben Anadolu
- 14 Aralık – Köşebaşı
- 18 Aralık – Cimri
- 22 Aralık – Hamlet
- 26 Aralık – Köşebaşı

Bu oyunlara giden Ayşe, Burak, Cengiz, Defne, Erdem ve Ferda adlı kişilerle ilgili bilinenler şunlardır:

- Her bir kişi, farklı tarihteki bir oyuna gitmiştir.
- Ayşe ve Burak aynı oyuna gitmiştir.
- Defne; Erdem ile aynı hafta, Ferda'dan ise bir önceki hafta tiyatroya gitmiştir.

Buna göre aşağıdaki kişilerden hangilerinin gittiği oyun ve tarihi kesin olarak bilinir?

- A) Ayşe - Defne
- B) Burak - Erdem
- C) Defne - Burak
- D) Cengiz - Ferda

9. Su, bireylerin en temel gereksinimi olması ve başlıca ekonomik faaliyetlerde kullanılması nedeniyle insanlık için vazgeçilmez bir kaynaktır. Bu sebeple 1993 yılında Birleşmiş Milletler, 22 Mart'ı "Dünya Su Günü" ilan etmiştir.

I

II

Bugünün amacı, tatlı su kaynaklarının önemine dikkat çekmek ve küresel su kriziyle mücadele etmektir. Her yıl

III

farklı bir temanın ele alındığı günün 2021 yılındaki teması "Suyun Değeri" olarak belirlenmiştir.

IV

Bu parçada numaralanmış bölümlerin hangisinde yazım yanlışı yapılmıştır?

- A) I
- B) II
- C) III
- D) IV

10. Özne, yüklemde bildirilen yargıyı gerçekleştiren veya o durumda bulunan ögedir. Yükleme sorulan “ne, kim” soruları cümlede özneyi buldurur.

Bu açıklamadan hareketle,

(I) İnsanoğlu yaklaşık 10 bin yıl önce yerleşik hayata geçmeye başladı. (II) Tarımsal üretim faaliyetleri bunun en önemli sebebiydi. (III) İklim koşullarının aşırı değişiklik göstermemesi insanların tarım yapabilmelerini kolaylaştırıyordu. (IV) Düzenli tarımsal üretim sayesinde insan nüfusu bugünkü seviyesine ulaştı.

metninde numaralanmış cümlelerin hangisinde altı çizili bölüm özne değildir?

A) I

B) II

C) III

D) IV



CEVAP ANAHTARI

TÜRKÇE

1. B
2. A
3. D
4. C
5. B
6. A
7. D
8. D
9. C
10. C

T.C. İNKILAP TARİHİ VE ATATÜRKÇÜLÜK

1. A
2. C
3. B
4. D
5. D

DİN KÜLTÜRÜ VE AHLAK BİLGİSİ

1. A
2. D
3. C
4. C
5. B

YABANCI DİL (İNGİLİZCE)

1. C
2. D
3. D
4. A
5. B