



T.C.
MİLLÎ EĞİTİM BAKANLIĞI
ÖLÇME, DEĞERLENDİRME VE SINAV HİZMETLERİ GENEL MÜDÜRLÜĞÜ

2021-2022 EĞİTİM VE ÖĞRETİM YILI
Sınavla Öğrenci Alacak Ortaöğretim Kurumlarına
İlişkin Merkezî Sınava Yönelik
Şubat Ayı Örnek Soruları
(SÖZEL BÖLÜM)

Bu kitapçıkta toplam 25 soru bulunmaktadır.

- Türkçe : 10 soru
- T. C. İnkılap Tarihi ve Atatürkçülük : 5 soru
- Din Kültürü ve Ahlak Bilgisi : 5 soru
- İngilizce : 5 soru

Türkçe Örnek Soruları

1. Model: Örnek olmaya değer kimse veya şey.

İdeal: Düşüncenin tasarlayabileceği bütün üstün nitelikleri kendinde toplayan.

Uyum: Toplumsal çevreye veya bir duruma uyuma.

Aşağıdakilerin hangisinde “model, ideal, uyum” sözcüklerinin tümü, verilen anlamlarını karşılayacak şekilde kullanılmıştır?

- A) Yazarın son kitabı, iş dünyasının parlayan yıldızları için model olabilecek insanları anlatıyor. İdealler çerçevesinde gelişen hayatları, yazarın birlikte uyum içinde çalıştığı yol arkadaşlarını, onların umut, inanç, özveri ve başarıyla taşınmış öykülerini içeriyor.
- B) Mevlâna; büyükmeye karşı tevazunun, düşmanlığa karşı dostluğun, ön yargıya karşı hoşgörünün, cimriliğe karşı cömertliğin, asiliğe karşı uyumun tesis edildiği hikâye ve beyitleriyle ideal insan modelini oluşturmaya gayret etmiştir.
- C) İdeallerini gerçekleştirmek için yaşayan insan deyince aklımıza saf, temiz, uyum sahibi, sevdiği işi yapan, mutlu bir insan modeli gelir. Hedefleri doğrultusunda hareket eden bu insanların sayısı az olsa da onlar toplumda daima dikkat çeker.
- D) Sonsuz bir sessizlik ve uyum sarmıştı yaylayı. Sanki bütün canlılar bu sessizliğe ayak uydurmuştu. Dinlenmek için en ideal yer burası, diye düşündü Arif. Tam o sırada Muhtar, eski model arabasıyla sessizliği bozarak tepeyi aştı.

2. Uluslararası Türk Kültürü Teşkilatı, 2020 yılı Türk dünyası kültür başkenti olan Özbekistan'ın Hiva şehrinde gerçekleştirdiği 38. Dönem Toplantısı'nda Bursa'yı 2022 Türk dünyası kültür başkenti olarak seçti.







Bu cümle aşağıdakilerin hangisinde verilenlerin birleştirilmesiyle oluşmuştur?

- A) Özbekistan'ın Hiva şehri, 2020 yılı Türk dünyası kültür başkentidir.
Uluslararası Türk Kültürü Teşkilatı 38. Dönem Toplantısı'nı Özbekistan'ın Hiva şehrinde gerçekleştirdi.
Uluslararası Türk Kültürü Teşkilatı, 38. Dönem Toplantısı'nda 2022 yılı Türk dünyası kültür başkenti olarak Bursa'yı seçti.
- B) Hiva şehri Özbekistan'ın kültür başkentidir.
Uluslararası Türk Kültürü Teşkilatı yaptığı toplantıda 2022 yılı için 38. kültür başkenti olarak Bursa'yı seçti.
Uluslararası Türk Kültürü Teşkilatı Dönem Toplantısı 2020 yılında Hiva şehrinde gerçekleştirdi.
- C) 2022 yılı Türk dünyası kültür başkenti Bursa oldu.
Uluslararası Türk Kültürü Teşkilatı, 2020 yılındaki toplantıda Özbekistan'ın Hiva şehrini kültür başkenti seçti.
Uluslararası Türk Kültürü Teşkilatı 38. Dönem Toplantısı'nı Hiva şehrinde yaptı.
- D) 2020 yılı Türk dünyası kültür başkenti, Özbekistan'ın Hiva şehridir.
Uluslararası Türk Kültürü Teşkilatı, 38. Dönem Toplantısı'nı Özbekistan'ın Hiva şehrinde gerçekleştirdi.
Uluslararası Türk Kültürü Teşkilatı, Türk dünyası kültür başkentini seçmek için yapacağı dönem toplantısını 2022 yılında Bursa'da gerçekleştirecek.





































3. Aşağıda bazı alanlardaki biyoçeşitlilik üzerinde son 100 yılda etkili olan faktörler ve bu faktörlerin günümüzdeki eğilimleri ile ilgili bilgiler verilmiştir.

- Ilıman ormanlardaki biyoçeşitlilik üzerinde habitat (bir canlının yaşadığı ve geliştiği yer) değişiminin etkisi yüksek, iklim değişiminin etkisi düşük, kirlenmenin etkisi orta düzeydedir. Ancak günümüzde habitat değişiminin etkisi azalmakta, iklim değişimi ve kirlenmenin etkisi artmaktadır.
- Çöllerdeki biyoçeşitlilik üzerinde habitat değişimi ve kirlenmenin etkisi düşük, iklim değişiminin etkisi orta düzeydedir. Günümüzde habitat değişiminin etkisi aynı şekilde devam ederken iklim değişimi ve kirlenmenin etkisi artmaktadır.
- Akarsu ve göllerdeki biyoçeşitlilik üzerinde habitat değişimi ve kirlenmenin etkisi yüksek, iklim değişiminin etkisi düşüktür. Günümüzde bu üç faktörün de etkisi artmaktadır.

Bu bilgilerden hareketle biyoçeşitlilik üzerinde son 100 yılda etkisi olan faktörler ve bunların günümüzdeki eğilimlerini göstermek için bir tablo oluşturulacak ve bu tabloda aşağıdaki semboller kullanılacaktır.

Biyoçeşitlilik Üzerinde Faktörlerin Etkisi			Etkili Faktörlerin Günümüzdeki Eğilimleri		
					
Düşük	Orta	Yüksek	Etkinin azalması	Etkinin aynı şekilde devam etmesi	Etkinin artması

Bu metne göre aşağıdaki tablolardan hangisi doğru oluşturulmuştur?

	Habitat Değişimi	İklim Değişimi	Kirlenme
A) Ilıman Ormanlar			
Çöller			
Akarsu ve Göller			
B) Ilıman Ormanlar			
Çöller			
Akarsu ve Göller			
C) Ilıman Ormanlar			
Çöller			
Akarsu ve Göller			
D) Ilıman Ormanlar			
Çöller			
Akarsu ve Göller			

4. Ben bir kitap kapağı tasarımına başladığımda ilk iş olarak kitabı okuyorum. Bir taraftan da yazarla kitabı hakkında yüz yüze görüşüyorum, yayına hazırlayan arkadaşımın kitabın içeriği ve olası kapak görselleri konusunda tartışıyor ve çalışmaya başlıyorum. Bu içerik çalışması dışında tabii ki kapak kâğıdının kalitesi ve kapakta oluşturduğum figürleri süsleme tarzımın da bana bu başarıyı getirdiğini düşünüyorum.

Bu metin aşağıdaki sorulardan hangisine karşılık söylenmiş olabilir?

- Kitap kapaklarının, kitabın içeriğiyle ilgili olması gerektiğini düşünüyor musunuz?
- Kitap kapağı tasarımlarına ödül verilmesiyle ilgili neler söylemek istersiniz?
- Yılın en iyi kitap kapağı tasarımcısı seçilmenizi neye bağlıyorsunuz?
- Kitapların çok satılmasında kapak tasarımının etkisi var mıdır?

5. Bir forumda aynı başlığın altına yazılan üç yazı şu şekildedir:

- Yakutistan Özerk Cumhuriyeti'nin başkenti olan Yakutsk, dünyanın en soğuk kenti. Kış aylarında burada yaşamak oldukça zor, sadece insanlar için değil yaban hayvanları için de öyle. Yıl boyunca ortalama sıcaklık eksi 7,5 santigrat derece olarak hesaplanmış. Kış aylarında sıcaklık, eksi 65 santigrat dereceye kadar düşüyor.
- Balıkların içinde hız şampiyonu yelken balığıdır. Bu balık, sırtındaki mavimsi yüzgecini avlanırken açar ve avlandığı sırada oldukça yüksek bir hıza ulaşır. Saatte 110 kilometre süratle yüzebilen yelken balığına diğer balıkların yetişebilmeleri mümkün değil.
- Sahil sekoyası adlı türe ait 116 metrelik bir ağaç, bugüne kadar ölçülenler arasında en uzununu. Neredeyse 35 katlı bir gökdelen kadar yüksek olan bu ağaç ABD'deki bir millî parkta bulunuyor.

Bu forumun başlığı aşağıdakilerden hangisi olabilir?

- A) Dünyanın "En"leri
- B) Rekor Kıran Canlılar
- C) Doğanın Gizemleri
- D) Sıra Dışı Mekânlar



6. Edebiyatımızın üretken şairlerinden biri olan ve "Türkçem benim ses bayrağım." dizesiyle de tanınan Fazıl Hüsni Dağlarca çeşitli konularda şiirler yazmış, özellikle Türk tarihinin destanlaşmış birçok olayını şiirlerine taşımıştır. Bu alandaki en tanınmış eseri "Üç Şehitler Destanı"dır.

Bu metnin anlatımıyla ilgili,

- I. Örneklemeye başvurulmuştur.
- II. Tanık göstermeden yararlanılmıştır.
- III. Karşılaştırma yapılmıştır.

yargılarından hangileri doğrudur?

- A) Yalnız I
- B) I ve III
- C) II ve III
- D) I, II ve III

7. Alışveriş sitelerinden birinde yer alan bir çantayla ilgili müşteri yorumları şunlardır:

Fatma

Görünüşünü ve kalitesini çok beğendim. Çocuğumun eşyalarını yerleştirmek için almıştım fakat içi beklediğim kadar geniş değil. Kumaşı kalın olmadığı için astarı olsaydı daha kullanışlı olurdu diye düşünüyorum.

Beğen Beğenme Cevapla

Ayşe

Gayet güzel ve şık, ne çok büyük ne de küçük. Lisede okuyan kızım için aldım. Kumaşı ince, beş yıl önce aldığımız aynı marka çanta da öyleydi ama hâlâ sağlam. Rengini de çok beğendim.

Beğen Beğenme Cevapla

Hatice

Çanta kısa sürede elime ulaştı. İçi oldukça geniş. Aldığımdan bu yana makinede iki kez yıkamama rağmen herhangi bir yıpranma olmadı.

Beğen Beğenme Cevapla

Elif

Oğlum için aldım, çok beğendi. İçine her boy kitap sığıyor, okul çantası olarak da kullanılabilir. Renk seçeneği fazla olsa daha iyi olurdu. Hızlı teslimat için ayrıca teşekkür ederim.

Beğen Beğenme Cevapla

Bu çantayla ilgili yorumlarda aşağıdakilerden hangisine bütün müşteriler değinmiştir?

- A) Kumaşına B) Teslimat süresine C) Rengine D) Boyutuna

8. Pul kanatlılar türündeki kelebeklerin kanatlarında kiremit gibi dizilmiş pullar bulunur. Milimetrenin onda biri boyutundaki bu küçük pullar kanattan kolaylıkla kopabilir. Pulların yapısında bulunan mikroskobik ölçekteki karmaşık çıkıntı ve çukur benzeri yapılar, ışığı kırarak kanatların eşsiz görünümüne katkıda bulunur. Kelebeklerin korunmasında ve uçuş performansında etkili olan pulların aynı türün üyeleri arasındaki sosyal ilişkileri düzenleyen kimyasal maddeler salgıladığı tespit edilmiştir.

Bu metinde kelebeklerin kanatlarındaki pullarla ilgili aşağıdakilerden hangisine değinilmemiştir?

- A) Nasıl görüldüğüne
B) Kelebekleri nasıl koruduğuna
C) Hangi kelebeklerde bulunduğu
D) Neden kimyasal madde salgıladığına

9. Ahmet, Caner, Kağan, Nihat adlı dört sporcunun kendi aralarında yaptıkları müsabakalar aşağıda sıralanmıştır.

1. Müsabaka → Ahmet-Nihat
2. Müsabaka → Ahmet-Caner
3. Müsabaka → Caner-Nihat
4. Müsabaka → Ahmet-Kağan
5. Müsabaka → Caner-Kağan
6. Müsabaka → Kağan-Nihat

Bu müsabakaların kazanan ve kaybedenleriyle ilgili bilinenler şunlardır:

- 1. müsabakayı kazanan sporcu toplam iki galibiyet almıştır.
- 2. müsabakayı kazanan sporcu diğer müsabakaları kaybetmiştir.
- 3. müsabakayı Caner, 5. müsabakayı Kağan kazanmıştır.

Buna göre aşağıdaki tabloların hangisinde sporcuların galibiyet sayıları doğru gösterilmiştir?

A)

Sporcu	Galibiyet
Ahmet	1
Caner	2
Kağan	1
Nihat	2

B)

Sporcu	Galibiyet
Ahmet	2
Caner	1
Kağan	2
Nihat	1

C)

Sporcu	Galibiyet
Ahmet	1
Caner	1
Kağan	2
Nihat	2

D)

Sporcu	Galibiyet
Ahmet	2
Caner	2
Kağan	1
Nihat	1

10. Şişli; kültürün, sanatın, farklı damak lezzetlerinin buluşma noktasıdır. Şişli deyince pazar günleri gidip gezebileceğiniz antika pazarından da mutlaka bahsetmeliyiz. Büyükannelerimizin evinden çıkmış gibi görünen, özenle seçilmiş parçalar var burada: plaklar, fotoğraf makineleri, daktilolar, saatler, tabaklar, çay takımları... Eski dergi ve gazetelerin sizi gülümsetecek reklamlarına da mutlaka göz atmalısınız.

Bu metinde aşağıdaki noktalama kurallarından hangisinin örneği yoktur?

- A) Alıntılanan bir metnin alınmayan bölümlerinin yerine üç nokta konur.
- B) İki den fazla eş değer ögesi arasında virgül bulunan cümlelerde öznenen sonra noktalı virgül kullanılabilir.
- C) Kendisiyle ilgili örnek verilecek cümlelerin sonuna iki nokta konur.
- D) Birbiri ardınca sıralanan eş görevli sözcük ve sözcük gruplarının arasında virgül kullanılır.

CEVAP ANAHTARI

TÜRKÇE

1. B
2. A
3. D
4. C
5. A
6. B
7. D
8. B
9. C
10. A

T.C. İNKILAP TARİHİ VE ATATÜRKÇÜLÜK

1. A
2. B
3. C
4. B
5. D

DİN KÜLTÜRÜ VE AHLAK BİLGİSİ

1. D
2. C
3. B
4. D
5. A

YABANCI DİL (İNGİLİZCE)

1. B
2. D
3. D
4. C
5. D